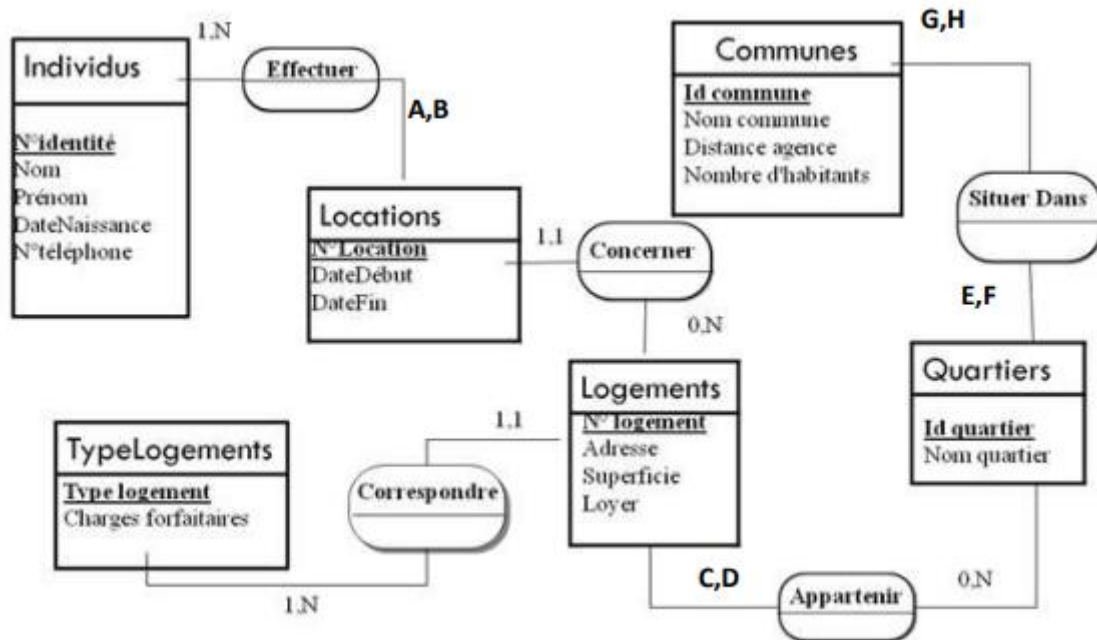


Série de TD 01

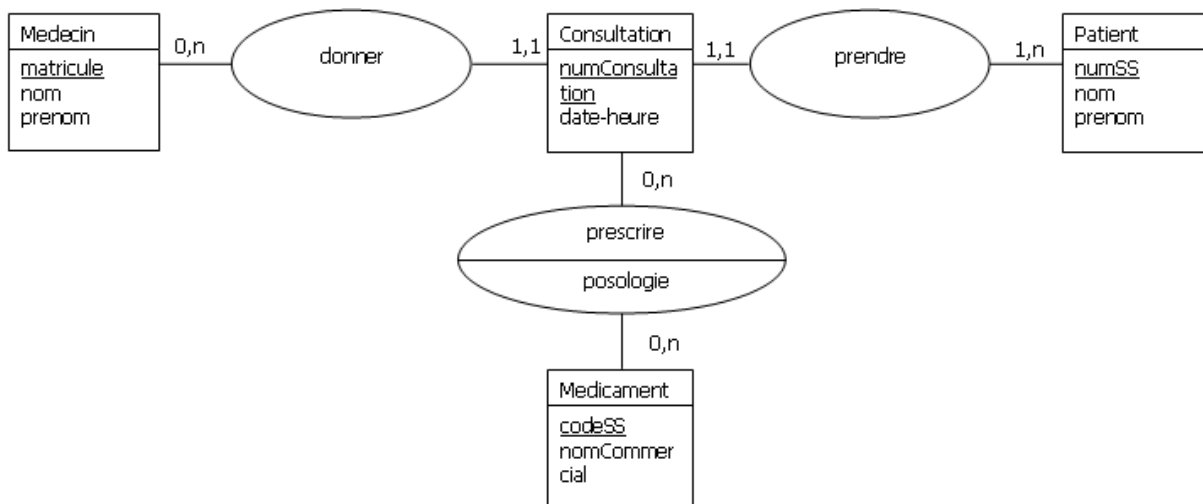
Exercice 01

Le MCD suivant représente «la gestion d'une agence de location». Complétez ce MCD



Exercice 02

On vous donne le MCD représentant des visites dans un centre médical.



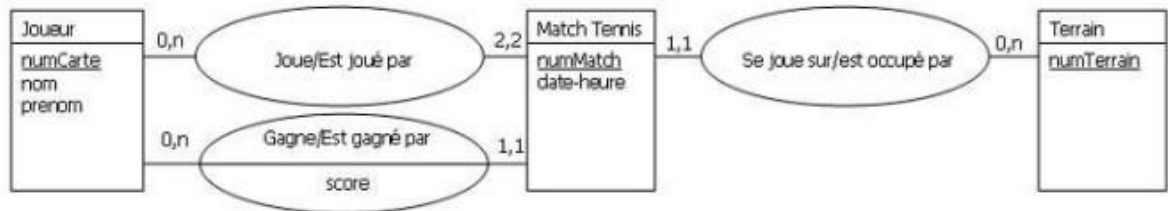
Questions

1. Un patient peut-il effectuer plusieurs consultations ?
2. Un médecin peut-il recevoir plusieurs patients dans la même consultation ?
3. Peut-on prescrire plusieurs médicaments dans une même consultation ?

4. Deux médecins différents peuvent-ils prescrire le même médicament ?

Exercice 03

Le modèle suivant représente un tournoi de tennis.



En examinant ce modèle, répondre aux questions suivantes (avec justification) :

1. Peut-on jouer des matchs de double ? Pourquoi ?
2. Dans ce tournoi, peut-on trouver un joueur qui n'a jamais joué un match ? Pourquoi ?
3. Peut-il y avoir deux matchs sur le même terrain à la même heure ? Pourquoi ?
4. Connaissant un joueur, peut-on savoir sur quels terrains il a joué ? Comment ?